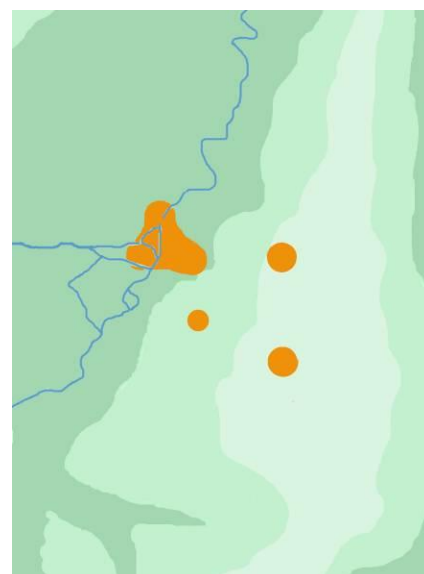
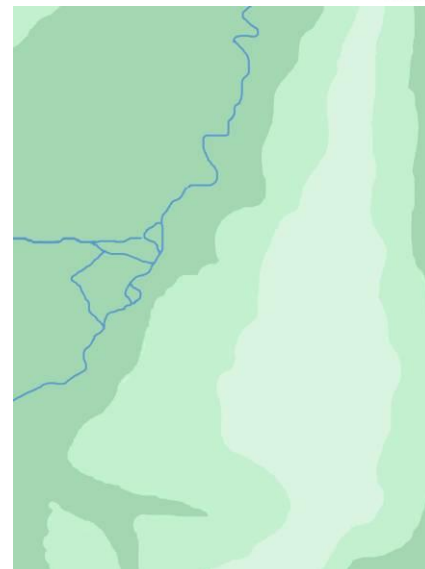
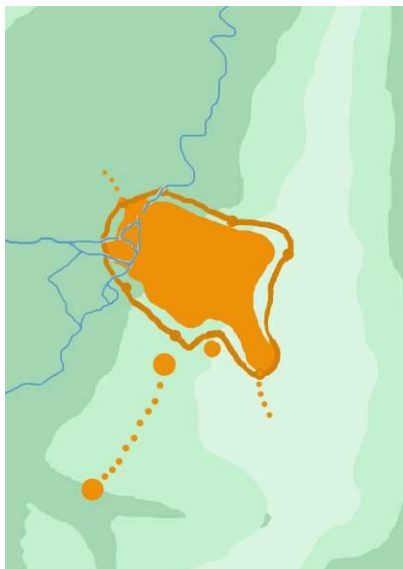


# 1000 JAAR EVOLUTIE VAN BRUSSEL



## Leren lezen van schematische kaarten: 1000 jaar evolutie van Brussel.

1. Plaats de kaarten in de juiste chronologische volgorde.

- Noteer op elke kaart de overeenstemmende datum.

- Nummer de kaarten van 1 (= oudste) tot 8.

Hulp nodig? Lees de teksten in de kadertjes hieronder.

**± 900**

- √ We zien een onbewoonde **vallei**. In haar dal stroomt een rivier.
- √ De hellingen van de vallei zijn niet even steil. De **oostkant** is veel hoger en steiler dan de **westkant**.

**± 1100**

- √ Er ontstaan kleine, bewoonde kernen. De belangrijkste daarvan ligt aan de rivier.
- √ Een andere ligt halverwege de helling.
- √ Twee andere kernen bevinden zich op de heuvel.

**± 1300**

- √ De middeleeuwse stad is zodanig gegroeid dat de 3 kernen één geheel vormen.
- √ Een muur omringt het grootste gedeelte van de bewoonde zones.

**± 1550**

- √ Een tweede muur omringt de stad, waarin nog grote zones niet bebouwd zijn.
- √ Een **nieuwe waterweg** komt de stad binnen via het noorden: het kanaal van Willebroek.

**± 1700**

- √ Het uitzicht van de stad is helemaal veranderd. Het grootste gedeelte van de gebouwen die vroeger in hout en leem opgetrokken waren, zijn herbouwd in natuur- en baksteen.
- √ De tweede walmuur wordt versterkt door driehoekige bastions.

**± 1840**

- √ De stad wordt heringericht. Ze krijgt een ordelijk en meer geometrisch karakter.
- √ De Tweede omwalling is vervangen door grote **lanen**.
- √ De stad breidt uit buiten de vroegere stadswal. De Leopoldswijk is hiervan een voorbeeld.
- √ Het kanaal is verteld naar het zuiden toe: het kanaal naar Charleroi is klaar.

**± 1900**

- √ In de stad zijn de groene zones, behalve de parken, verdwenen.
- √ De dokken in de stad zijn gedempt. De rivier is niet meer zichtbaar in de stad. Ze werd overwelfd.
- √ De centrale lanen zijn aangelegd, vb. de Anspachtlaan.
- √ De stad barst uit haar voegen. Ze slokt de naburige dorpen op. Ook in het centrum verschijnen nieuwe gebouwen.

**± 1950**

- √ De Noord-Zuidverbinding ziet het levenslicht.
- √ Langs deze Noord-Zuidas worden nieuwe gebouwen opgetrokken, vooral kantoren.





### **Kaart nr. 1 (900)**

1. Waar bevinden zich het oosten en het westen? Noteer de windrichtingen op de kaart.
2. Wat is een vallei?
3. Hoe heet de rivier die vroeger door het centrum van Brussel stroomde?

### **Kaart nr. 2 (1100)**

4. Waarom vestigen mensen zich rond waterlopen?
5. Waarom vestigen mensen zich op de hellingen van de vallei?
6. Welk voordeel haalt een heerser eruit om zich hoger te gaan vestigen dan de rest van de bevolking?

### **Kaart nr. 3 (1300)**

7. Waarvoor dient de muur die de stad omringt?
8. Waarom woonde niet iedereen binnen de stadswal?

### **Kaart nr. 4 (1550)**

9. Waarom heeft men een tweede muur rond de stad gebouwd?
10. Wat zijn de verschillen tussen de nieuwe waterweg en de oude?
11. Waarom heeft men het nieuwe kanaal gegraven?

### **Kaart nr. 5 (1700)**

12. Waarom was het nodig om de tweede omwalling nog te versterken?
13. Hoe komt het dat zoveel oude gebouwen vervangen werden door nieuwe? Wat zou er gebeurd zijn?

### **Kaart nr. 6 (1840)**

14. Waarom was de omwalling niet meer nodig?
15. Het stadscentrum van Brussel, afgelijnd door de lanen waar vroeger de stadsomwalling stond, heeft een bepaalde vorm en daardoor ook een specifieke naam. Welke?

### **Kaart nr. 7 (1900)**

16. Wat is er met de rivier gebeurd?
17. Waarom zien we de 'grenzen' van de stad niet meer op de kaart?

### **Kaart nr. 8 (1950)**

18. Wat is de Noord-Zuidverbinding eigenlijk?

