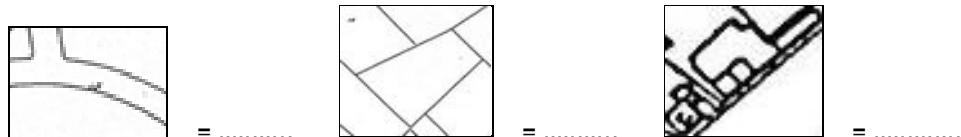


A. IN DE KLAS

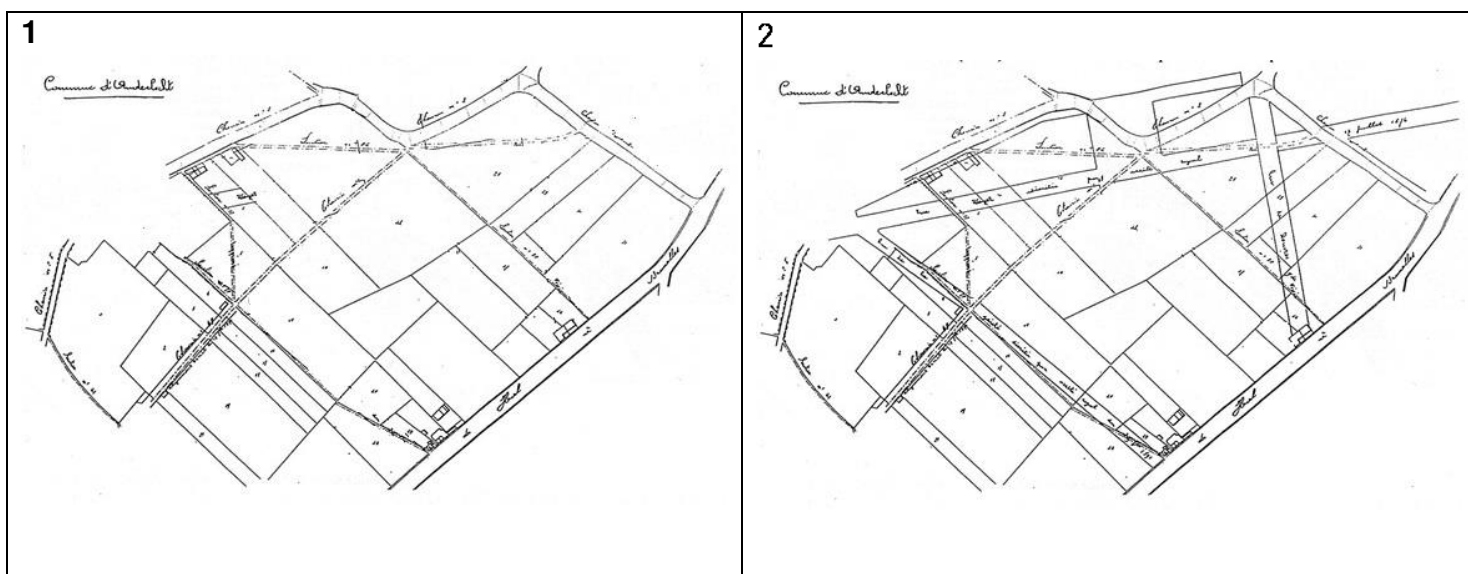
1. Wat staat er op dit plan?

Bekijk het plan van 1876 op p. 3 en beantwoord volgende vragen:

- a. Vul de legende aan en kies uit volgende woorden: *weg* – *huizen* – *percelen* (= stukken bouwgrond of landbouwgrond)



- b. Wat kunnen we begrijpen uit de uitvergroting (= de blauwe cirkel op het plan)?
- Sommige wegen lopen door percelen.
 - Sommige straten lopen over elkaar.
- c. Wat betekent dat volgens jullie?
- Dat er nieuwe straten toegevoegd werden.
 - Dat de percelen vergroot werden.
- d. Bekijk deze tekeningen. Welke tekening toont de wijk vóór de aanleg van nieuwe straten? Nr.



- e. Kleur de huizen **rood** op het gekozen plan.

2. Maak je eigen herkenningstekens!

Op de huidige kaart:

- a. Kleur de Bergense steenweg en de Rauterstraat **groen**.
- b. Kleur de Dorpsstraat en de Bronsstraat **geel**.
- c. Kleur de Wayezstraat en het Verzetsplein **blauw**.

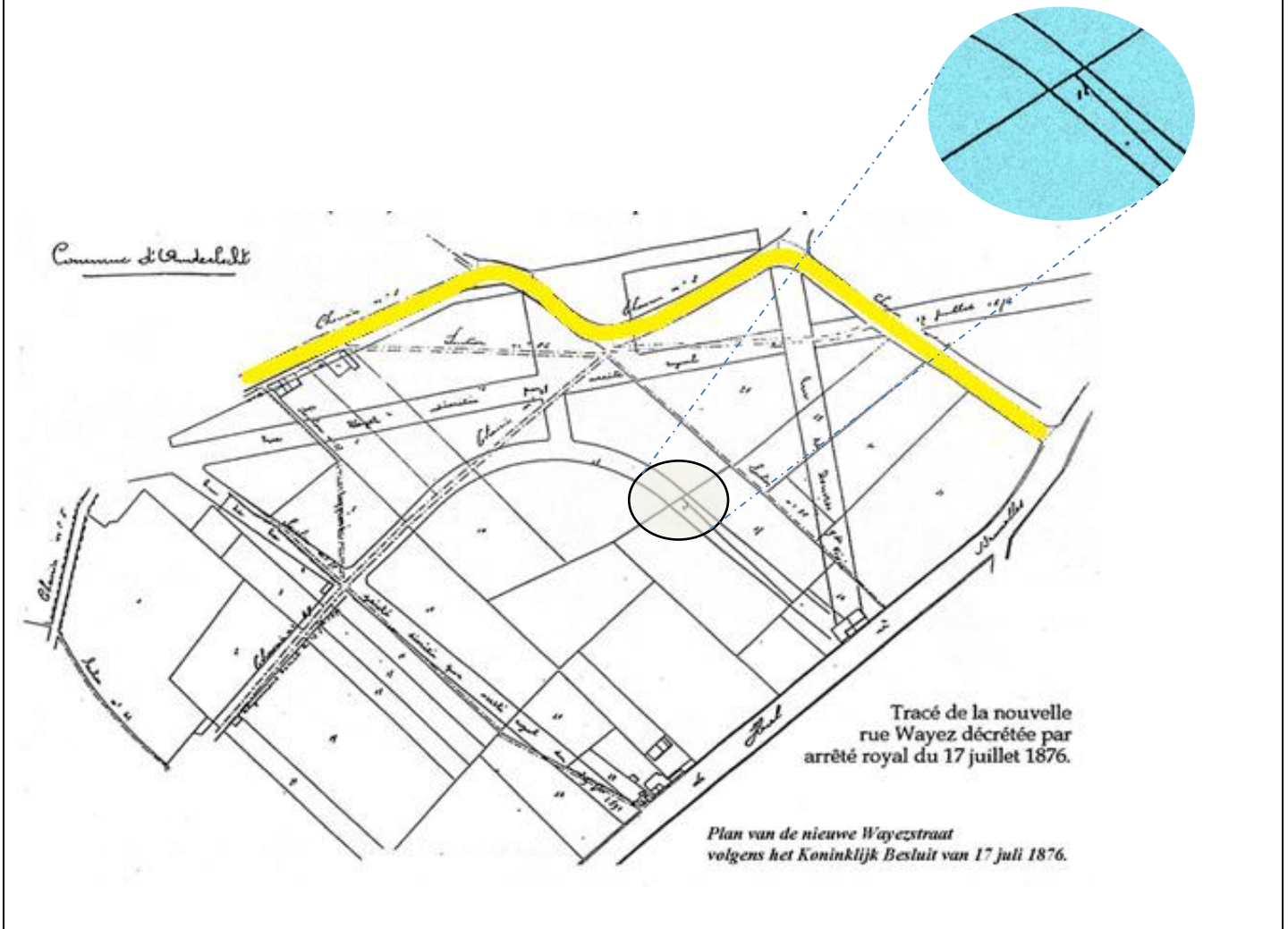
Op het plan van 1876:

- d. Zoek de Bergense steenweg en de Rauterstraat en kleur ze **groen**.
- e. Zoek de Wayezstraat en het Verzetsplein en kleur ze **blauw**.

3. Vergelijk het plan van 1876 met de huidige kaart.

- a. De gele weg op het plan van 1876 komt overeen met de Dorpsstraat. Wat stel je vast?
- De Dorpsstraat vandaag is langer.
 - De Dorpsstraat vandaag is korter.
- b. Vergelijk de Wayezstraat met de vroegere Dorpsstraat (op het plan van 1876).
- De Wayezstraat is directer dan de Dorpsstraat.
 - De Dorpsstraat is bochtiger dan de Wayezstraat.
- c. Op het plan van 1876, worden de Wayezstraat en het Verzetsplein doorkruist door de Dorpsstraat. Wat betekent dat?
- Dat men de Dorpsstraat boven op het Verzetsplein heeft getekend.
 - Dat men het Verzetsplein boven op de Dorpsstraat heeft getekend.
- Op het plan van 1876 zien we nog straten in aanbouw. Welke?
- Blijdschapsstraat
 - Bronsstraat
 - Douverstraat
 - Romeinse Villadreef
 - Victor Rauterstraat

Plan van 1876



Huidige kaart



B. OP STRAAT

OEFENING 1: KENMERKEN


Begin de wandeling in de Wavezstraat, ter hoogte van het Dapperheidsplein. Observeer de Wavezstraat. Vul aan of schrap wat niet past in deze tabel.

| Inrichting | Bebouwing |
|--|--|
| <ul style="list-style-type: none"> ▪ Parking? JA / NEE ▪ Tram? JA / NEE ▪ Hoeveel mensen kunnen naast elkaar op het voetpad lopen? ▪ Aanwezigheid van: banken / bloembakken / bomen / vuilbakken | <ul style="list-style-type: none"> ▪ Rijhuizen (gebouwen aan elkaar vast) / Alleenstaand (gebouwen los van elkaar) ▪ Gebouwen langs het voetpad / op afstand van het voetpad |

OEFENING 2: HET VERKEER

Bekijk deze oude postkaart van de Wavezstraat. Ze dateert vermoedelijk van na de Eerste Wereldoorlog.

- ❖ Welke vervoersmiddelen zijn zichtbaar op de postkaart?
 - de kar
 - de tram
 - de auto
- ❖ Welk vervoersmiddel is vandaag vooral aanwezig?



OEFENING 3: FUNCTIE

1. Deze straat dient vooral om te ... (kruis één keuze aan):
 - wandelen
 - winkelen
 - wonen
2. Deze straat is dus een:
 - winkelstraat
 - industriezone
 - woonwijk
3. Welke soort winkels vind je hier? Stap van nr. 187 tot nr. 145 en trek in onderstaande tabel een streepje voor elke winkel die je passeert. Turven doe je zo:

| | |
|--------------------|--------------------|
| - voedingswinkels: | - kledingwinkels: |
| - horeca: | - schoenenwinkels: |
| - apothekers: | - juweliers: |
| - interimbureaus: | - optiekers: |
| - parfumerie: | - electro: |
| - uitverkoop: | - andere: |

4. Waaraan herken je een winkelstraat? Kruis de juiste antwoorden aan. Dit herken je aan...

| | | |
|--|---|--|
| <input type="radio"/> de voortuintjes | <input type="radio"/> de uithangborden | <input type="radio"/> de decoratieve brievenbussen |
| <input type="radio"/> de lichtreclames | <input type="radio"/> de garagepoorten | <input type="radio"/> de teruggetrokken ingangen (weg van het voetpad) |
| <input type="radio"/> de gordijnen voor het raam | <input type="radio"/> de uitstalramen op het gelijkvloers | <input type="radio"/> de vele verschillende en levendige kleuren |

5. Is de Weyezstraat eigenlijk **al lang** een winkelstraat? JA / NEEN

- Bekijk opnieuw de postkaart van na de Eerste Wereldoorlog op de vorige pagina. Waaraan kan je zien dat het toen ook al een winkelstraat was? Kruis aan.
 - aan de uitstalramen
 - aan de bloembakken
 - aan de zonneschermen
 - aan de vlaggen
- **Omcirkel** die elementen op de postkaart en omcirkel dan het juiste antwoord op vraag 5.

6. **Afspraak tegenover nr. 108.** Vergelijk het gebouw vóór je met de oude buurtslagerij op deze foto.



Hoeveel deuren waren er **vroeger**?

- Waar leidden ze naar?
- Waar bevonden ze zich?
 - langs de straat (naast het voetpad)
 - teruggetrokken van de straat (weg van het voetpad)
- Ging het uitstalraam tot op de grond? JA/NEEN

Hoeveel deuren zijn er **vandaag**?

- Waar leiden ze naar?
- Waar bevinden ze zich?
 - langs de straat (naast het voetpad)
 - teruggetrokken van de straat (weg van het voetpad)
- Gaat het uitstalraam tot op de grond? JA/NEEN

- Teken op de actuele foto van huis nr. 108 de deur(en) en het uitstalraam zoals ze vroeger **waarschijnlijk** waren.

