

Monument voor de oorlogsduif en de duivenliefhebbers voor het vaderland gesneuveld

De omgeving van het monument

Kruis de antwoorden aan die van toepassing zijn op dit monument.

- Het monument staat...
 - op een plein/in een park
 - op een rond punt
 - omgeven door water
 - langs de straat
 - Welke onderstaande antwoorden passen het best bij dit monument. Kruis aan.
 - Je kan het van ver zien.
 - Je kan niet voldoende afstand nemen.
 - Je kan er rond.
 - Het staat tegen een muur.
 - Er passeert veel volk.
 - Er komt bijna niemand voorbij
 - Je kan er heel dichtbij komen.
 - Je mag of kan het niet benaderen.
- ➔ Komt het monument mooi tot zijn recht in deze **omgeving**? JA / NEE

De vorm en samenstelling van het monument

Kruis alle elementen aan die je terugvindt op dit monument.

- beplanting
- sokkel
- muur
- een beeldengroep
- trappen
- één personage
- obelisk
- piramide

1. Dit monument is...



2. Het monument past duidelijk in twee geometrische vormen. We hebben er al één getekend op de foto hieronder.

- Welk is de tweede vorm?



- Teken de juiste driehoek op de foto hieronder.



3. Het monument heeft ook verticale lijnen.

- Teken de lijnen op dit schema.

- Hoeveel tel je er?



4. Welk stukje van het monument trekt de meeste aandacht? Omcirkel het op de foto.

De materialen


1. Er werden drie materialen voor dit monument gebruikt. Verbind elk materiaal met de juiste plaats op de foto van het monument.



- 1) Welke achtergrond hebben de elementen in steen?
 lucht bomen gebouwen
 - 2) Welke achtergrond heeft het bronzen standbeeld?
 lucht bomen gebouwen
- Welk deel van het monument valt het meeste op?
 De elementen in steen
 Het bronzen gedeelte
- Dit is het belangrijkste deel van het monument. Waarom zien we dit beter dan de andere delen?
 Door een ander materiaal te gebruiken
 Door het een centrale plaats te geven en hoger te plaatsen
 Door het de lucht als achtergrond te geven

De opschriften

- 1) Aan wie is dit monument opgedragen?
a) Vervolledig de opschriften.



- b) Wat zijn dievenliefhebbers?

- Ze doen aan duivensport (wedstrijden).
- Ze verzamelen pluimen van duiven.
- Ze fokken en trainen duiven.

- 2) Zoek op het standbeeld de periode waarin men echt hulp nodig had van duiven. Schrijf de jaren in de kaders.



- 3) Welke gebeurtenis vond plaats tijdens deze jaren?

- de Franse Revolutie de onafhankelijkheid van België
- de Eerste Wereldoorlog de Tweede Wereldoorlog

Het vrouwelijke personage



1. Haar gezicht

- Wat drukt haar gezicht uit? De jonge dame lijkt...
 - vrolijk
 - wanhopig
 - zacht
 - kwaad
 - zonder uitdrukking
 -

2. Haar houding

- Kruis de juiste antwoorden aan die haar houding beschrijven.
 - Ze strekt een arm uit.
 - Haar twee armen hangen naast haar lichaam.
 - Ze zet één been naar voren.
 - Haar twee benen staan naast elkaar.
 - Ze buigt een beetje door.
 - Ze staat kaarsrecht.
 - Haar romp is een beetje gedraaid.
 - Haar romp is helemaal recht.
- ▶ Ze is dus... kaarsrecht en onbeweeglijk / bevroren in haar beweging

3. Haar kleding

Ja, haar borst is bloot, maar ze is niet helemaal naakt!

Ze draagt...

<input type="radio"/>	<input type="radio"/>
	
... kleding uit de tijd van de oorlog (14-18)	... kleding uit de oudheid
▶ Ze is gekleed zoals een Brusselse uit die tijd.	▶ Ze is gekleed zoals een godin, een uitzonderlijk iemand.

4. Het modelé

- Hoe zijn de plooien van haar kleding uitgebeeld? Ze zijn eerder...




5. Maar... Er zijn eigenlijk twee personages.

- Wat houdt de vrouw in haar rechter hand vast?
- Wat doet de duif?
 - Ze slaapt.
 - Ze strijkt haar pluimen glad.
 - Ze zit op haar hand.
 - Ze maakt zich klaar om weg te vliegen.
- Naar wie kijkt de jonge dame?
- Naar wie kijkt de duif?
- Omcirkel de juiste antwoorden.
 - ze kijken naar elkaar / ze keren elkaar de rug toe
 - Zij kijkt naar de duif met ... haat / welwillendheid / angst / afkeer / zachtheid

De stenen elementen



- 1) Welke elementen kan je terugvinden aan de twee uiteindes van het muurtje?



- 2) Welk motief is er op de helm gebeeldhouwd?



Een **jachthoorn**,
embleem voor de Franse
jagers te voet.



Een **leeuwenkop**,
embleem voor de
Belgische soldaten.



Een **granaat**,
embleem voor de
Franse infanteristen.

- 3) Welke functie krijgt de duif hier, denk je?

- die van een gezelschapsdier die van een soldaat

Symbolen gelinkt aan de natuur

- 4) Welke planten/bomen worden op dit monument weergegeven?



laurier (als kroon)



eikenbladeren



rozen


- 5) Wat symboliseren deze planten?

a) Vul de tekstboxen hieronder aan.

b) Verbind vervolgens de twee tekstboxen met de plaats op het monument waar je deze planten terugvindt.

Ik ben het blad van een sterke boom. Ik symboliseer kracht en uithoudingsvermogen. Ik ben het blad van een

Gewoonlijk draagt men mij op het hoofd. Ik beeld de eer en de overwinning uit. Ik heb de vorm van een kroon en ben gemaakt van



Handtekeningen

- 1) Observeer het monument langs alle kanten (voor-, achter-, zijkanten, boven- en onderkant) en vind onderstaande opschriften terug. Verbind ze op het schema met de juiste plaats waar je ze gevonden hebt.



Op de bronzen sokkel, rechts



Op het uiteinde van het rechtse muurtje, aan de binnenzijde



Op de bronzen sokkel, aan de achterzijde



- 2) Vervolledig nu onderstaande zinnen.

Het bedrijf heeft het bronzen beeld gegoten.

Meneer **G. Hano** is de, die het plan van het monument tekende.

Zijn voornaam is **Victor**, en zijn achternaam is Hij is de beeldhouwer die de beelden van het monument maakte.

Vlakkij...

Zoek naar een ander herdenkingsmonument, aan de overzijde van het pleintje.

De materialen

Vergelijk dit monument met het monument van de oorlogsduif. Uit welk materiaal is dit monument gemaakt?

blauwe hardsteen



brons



Het reliëf

1. Observeer de gebeeldhouwde elementen bovenaan het monument. Om welk reliëf gaat het hier?

Een laagreliëf

Het beeldhouwwerk komt nauwelijks los van de achtergrond.

Een hoogreliëf

Er is veel hoogteverschil tussen het beeldhouwwerk en de achtergrond, maar het hangt er nog steeds aan vast.

Een standbeeld

Het beeldhouwwerk is volledig los van de achtergrond. Je kan er rond.

2. Vergelijk dit reliëf met de jonge dame van het monument van oorlogsduif.


- Is dit hetzelfde type van reliëf? JA/NEE

- De jonge dame is.....

- Zijn er veel details weergegeven op dit monument? JA/ NEE

De gebeeldhouwde elementen

1) Verbind de drie onderstaande elementen met hun juiste plaats op het monument.



Aan wie brengt dit monument eer?

1. Vul de opschriften van het monument in.
2. Zoek de Nederlandstalige gedenkplaat en vertaal de Franstalige opschriften in de wolkjes.
3. Wat zijn pantserwagens?
 - wagens die pantserers of harnassen vervoeren
 - wagens die beschermd zijn door wapens en een verstevigde buitenzijde

Besluit

Dit monument brengt eer aan...

- de soldaten van de pantserwagens die gestorven zijn tijdens de Eerste Wereldoorlog.
- de soldaten van de pantserwagens die gestorven zijn tijdens de Eerste en de Tweede Wereldoorlog.
- de voertuigen die de soldaten beschermen tijdens de oorlog.



Een monument voor ...
